

Os elementos são predominantes nas paisagens do campo e da cidade.

Observe a cena em que o menino aparece.



1. Trabalhando lateralidade responda de acordo com a imagem.

- A) Onde está a horta? _____
- B) O que há na frente do menino? _____
- C) E a direita do menino? _____
- D) O que há à esquerda do menino? _____

2. Essa imagem da questão 1, representa:


- () A cidade () O campo

• Justifique sua resposta:

3. Liste cinco alimentos consumidos por você e sua família que são produzidos no campo.

- 1. _____
- 2. _____
- 3. _____
- 4. _____
- 5. _____

4. Desenhe como é a paisagem do onde você vive.



- A paisagem que você desenhou é da cidade ou do campo?

- Que elementos predominam nessa paisagem?

5. Você sabe o que podemos encontrar em campos agropecuários e em florestas.


- ❖ Quais animais podemos encontrar no campo?

- ❖ Podemos encontrar quais máquinas e quais equipamentos?


- ❖ Nas florestas, o que pode ser encontrado?

6. De acordo com as indicações, desenhe:

Dois animais do campo



Dois equipamentos do campo



Em breve retornaremos!! Bjoss!!