
 <b>Colégio de Santa Catarina</b> <i>Excelência Acadêmica com Formação Cristã</i>	Nome: _____		Nº _____
	4º Ano Fundamental I	Matemática	Hedinha
Data: ____ / ____ / 2020	<b>Atividade</b>		
			NOTA


**01.** João tem dois caminhões para transportar frutas do Mercado Municipal para os supermercados e armazéns. Um caminhão transporta 325 caixas de frutas por dia e outro transporta 186 caixas. Quantas caixas, ao todo, os dois caminhões transportam juntos por dia?

<b>Cálculo</b>
<b>Resposta:</b> _____ _____ _____

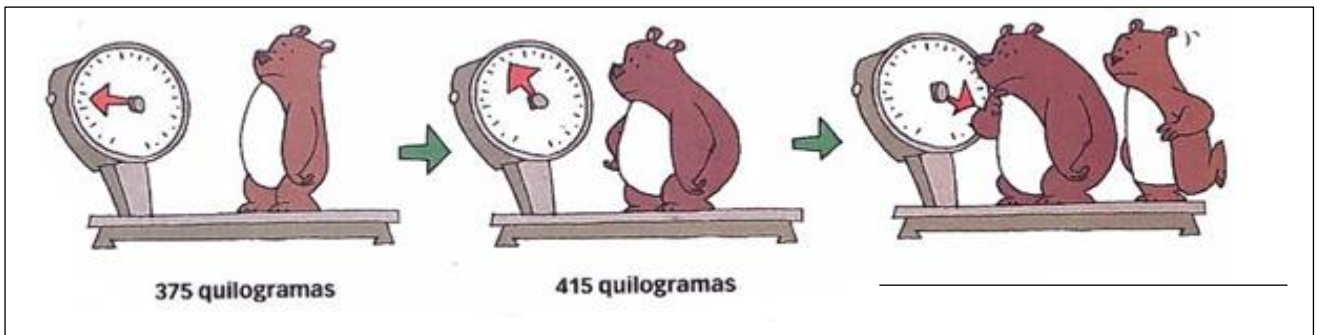


**02.** Uma hora antes de começar um jogo de voleibol já havia 1657 pessoas no ginásio. Até o início do jogo chegaram mais 378 pessoas. Quantas pessoas assistiram ao jogo?

<b>Cálculo</b>
<b>Resposta:</b> _____ _____ _____



03. Faz de conta que ursinhos atrevidos! Entraram na farmácia e foram se pesar. Quanto vai ser registrado na 3ª pesagem? Faça o cálculo e registre o resultado.



**Cálculo**

**Resposta:** \_\_\_\_\_  
\_\_\_\_\_  
\_\_\_\_\_

04. Jonas sabe que é preciso gastar menos do que se ganha. Por isso, ele coloca na poupança todo dinheiro que sobra. Ele tinha R\$ 2576,00 na poupança e depositou R\$ 1630,00. Quanto ele tem agora de saldo na poupança?

**Cálculo**

**Resposta:** \_\_\_\_\_  
\_\_\_\_\_  
\_\_\_\_\_



05. Beto tem R\$ 128,00. Carla tem R\$ 85,00 a mais do que Beto e Caio tem tanto quanto Beto e Carla juntos. Quantos reais têm os três juntos?

Cálculo	Resposta
	<hr/> <hr/> <hr/> <hr/>

06. Mariana e Jairo fazem coleção de chaveiros. Mariana tem 542 chaveiros e Jairo tem 278. Qual é a diferença entre o número de chaveiros de Mariana e o de Jairo?

Cálculo
<b>Resposta:</b> _____ _____ _____



07. No início do dia, em um supermercado havia 2 285 latas de leite em pó. No final do dia, ainda havia 1 782 latas. Quantas latas foram vendidas nesse dia?

Cálculo	Resposta:
	<hr/> <hr/> <hr/>

08. Laura tem R\$ 364,00 e seu irmão Pedro tem R\$ 419,00. Se juntarem essas quantias, quanto ficará faltando para comprarem um aparelho de som de R\$ 1 000,00?

Cálculo	Resposta:
	<hr/> <hr/> <hr/>

09. Você já visitou uma exposição de carros? É bem legal! Uma exposição de carros antigos foi visitada por 1 124 pessoas no sábado e por 1 297 pessoas no domingo. Qual foi o total de visitas nesse fim de semana?

Cálculo
<b>Resposta:</b> _____ _____ _____



Exposição de carros antigos em São Paulo, no Sambódromo.

10. Uma livraria vendeu 9 960 livros em janeiro e 8 519 livros em fevereiro. Qual foi a diferença entre os números de livros vendidos nesses dois meses?

Cálculo	Resposta:
	<hr/> <hr/> <hr/>

*“Não tenha pressa, leia e responda com atenção!”*