








Nome: _____		Nº _____	
2º Ano Fundamental I		Língua Portuguesa	Andrea / Marinalva / Salete
Data: ____ / ____ / 2020		Atividade	




Os números são importantes para o dia a dia dos seres humanos. Os algarismos têm seus valores e suas funções. É necessário que saibamos identificar, ler, escrever e ordenar.

01. É divertido jogar dominó! Vamos contar quantas bolinhas há em cada peça do dominó e escrever a quantidade abaixo:

						
<input type="text"/>	<input type="text"/>	<input type="text"/>	<input type="text"/>	<input type="text"/>	<input type="text"/>	<input type="text"/>

02. Leia o texto e complete escrevendo como se lê os números que estão faltando;

<p>Em minha festa de aniversário, ganhei um jogo que tinha um dado. Vejam o dado. Eu já contei: as suas faces são <u>seis</u>!</p>	<p>Uma das faces tem um pontinho; outra tem dois; outra tem _____; outra tem _____; outra tem _____; outra tem _____!</p>	<p>Nilson José Machado. <i>Contando de um a dez</i>. São Paulo, Scipione, 1990.</p> 
--	---	--

03. Seis colegas do 2º ano do Colégio Santa Catarina foram a uma sorveteria. Observe na tabela que sabor de sorvete cada uma escolheu.

Sabor \ Colegas	Chocolate	Morango	Creme
Helena	X		
Luíza		X	
Eduarda	X		
Beatriz			X
Mariana	X		
Carolina		X	

a) Escreva o sabor do sorvete pedido pelo maior número de colegas.

b) E o menor número de colegas.

Educação em valores

O que você acham de “furar” filas. Ao deixar alguém passar na sua frente, não é só na sua frente que a pessoa entra, mas na frente de todos os outros que estão atrás de você.

04. Pinte as roupas das pessoas da fila:



de azul, a da primeira pessoa

de verde, a da quinta pessoa

de amarelo, a da sétima pessoa

de vermelho, a da terceira pessoa

Que lugar a última pessoa ocupa na fila? _____

05. Quantas figurinhas Arthur possui? Contorne-as em grupos de dez.



a) Quantos grupos de dez você formou? _____

b) Quantas figurinhas não foram agrupadas? _____

c) Arthur possui _____ figurinhas.

06. Numa partida de futebol marquei 2 gols no primeiro tempo e 1 gol no segundo. Quantos gols marquei durante o jogo? _____