 Colégio Santa Catarina Excelência Acadêmica com Formação Cristã	Nome: _____		Nº _____
	2º ano Fundamental (Anos Iniciais)	Matemática	PROFS. Marinalva /Salete/Andrea.
Data: ____ / ____ / 2020	<b>Ficha de Revisão</b>		
<b>Atividade de Matemática</b>			

Números em outras situações.

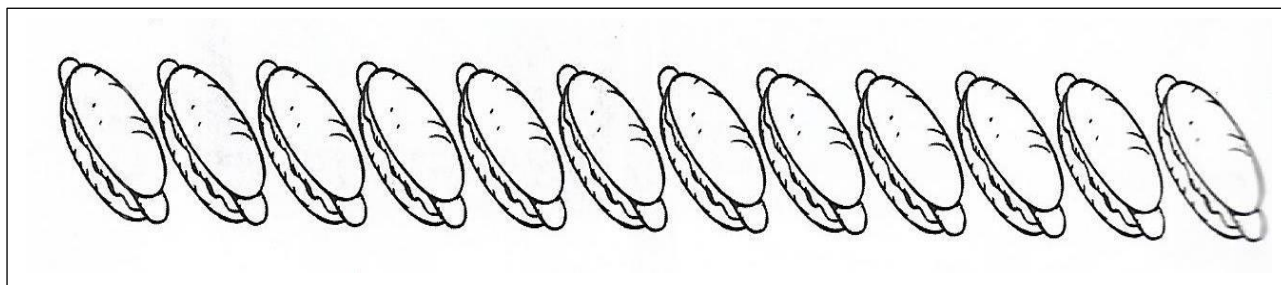
Renata convidou alguns amiguinhos para brincar à tarde em sua casa.

- A mãe de Renata vai fazer um lanche para todos e quis saber quantas crianças seriam.


1. Para quantas pessoas a mãe de Renata deve preparar o lanche?



2. Pinte a quantidade de sanduíches que a mãe de Renata deve colocar na bandeja.



3. Desenhe copos para completar a quantidade certa que a mãe de Renata deve colocar na mesa.



4. Quantos copos você precisou desenhar? \_\_\_\_\_

5. Leia e resolva com atenção os problemas.

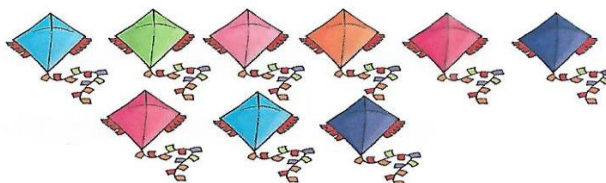
Comprei 5 livros, 3 cadernos e 2 lápis. Quantos objetos escolares comprei?



Comprei \_\_\_\_\_ objetos escolares.




Marcos ganhou 6 pipas. Papai lhe deu mais 3 pipas. Com quantas pipas Marcos ficou?



Marcos ficou com \_\_\_\_\_ pipas.

Ricardo ganhou 6 bombons. Mamãe lhe deu mais 4 bombons. Com quantos bombons Ricardo ficou?



Ricardo ficou com \_\_\_\_\_ bombons.

6. Calcule e ligue cada subtração ao seu resultado correto.

$$4 - 2 =$$

$$6 - 5 =$$

$$5 - 2 =$$

$$8 - 3 =$$

$$3 - 3 =$$

$$7 - 1 =$$

$$9 - 5 =$$

1

5

2

4

3

0


6

7. Responda: Quanto falta?

- para 4 completar 6 \_\_\_\_\_
- para 6 completar 9 \_\_\_\_\_
- para 3 completar 7 \_\_\_\_\_
- para 5 completar 8 \_\_\_\_\_
- para 2 completar 5 \_\_\_\_\_
- para 1 completar 4 \_\_\_\_\_



8. As cenas a seguir mostram o crescimento de uma árvore a partir do seu plantio. Escreva 1º, 2º, 3º ou 4º nos quadros de acordo com a ordem em que os acontecimentos dessas cenas se deram.



9. Escreva por extenso os ordinais a seguir.

7º → \_\_\_\_\_

8º → \_\_\_\_\_

9º → \_\_\_\_\_

6º → \_\_\_\_\_

5º → \_\_\_\_\_

10º → \_\_\_\_\_