 Colégio Santa Catarina Excelência Acadêmica com Formação Cristã	Nome: _____		Nº _____
	2º ano Fundamental (Anos Iniciais)	Matemática	PROFS. Marinalva/ Salete/Andrea
Data: ____ / ____ / 2020	Atividade de Revisão		

A matemática está presente no nosso dia a dia.

1. Com atenção escreva os números na ordem de 0 até 30.

0					
	6				
			13		
				19	
	21				







2. Leia os números e coloque os sinais de maior que ($>$) e menor que ($<$).

2 <input style="width: 40px; height: 20px;" type="text"/> 5	7 <input style="width: 40px; height: 20px;" type="text"/> 3	3 <input style="width: 40px; height: 20px;" type="text"/> 2
6 <input style="width: 40px; height: 20px;" type="text"/> 3	8 <input style="width: 40px; height: 20px;" type="text"/> 9	5 <input style="width: 40px; height: 20px;" type="text"/> 7
1 <input style="width: 40px; height: 20px;" type="text"/> 2	4 <input style="width: 40px; height: 20px;" type="text"/> 3	6 <input style="width: 40px; height: 20px;" type="text"/> 4

Agora coloque os sinais de igual a ($=$) ou diferente de (\neq).

4 <input style="width: 40px; height: 20px;" type="text"/> 4	7 <input style="width: 40px; height: 20px;" type="text"/> 4	9 <input style="width: 40px; height: 20px;" type="text"/> 6
5 <input style="width: 40px; height: 20px;" type="text"/> 3	6 <input style="width: 40px; height: 20px;" type="text"/> 3	8 <input style="width: 40px; height: 20px;" type="text"/> 8
2 <input style="width: 40px; height: 20px;" type="text"/> 2	1 <input style="width: 40px; height: 20px;" type="text"/> 1	3 <input style="width: 40px; height: 20px;" type="text"/> 2


3. Desenhe nos conjuntos o número de elementos que se pede.

 3	 5
 7	 2
 4	 1

Dez unidades formam 1 dezena.

4. Desenhe para completar 1 dezena em cada quadro.

	
-------------------------------------------------------------------------------------	--

	
-------------------------------------------------------------------------------------	--


5. Resolva as situações problema. Atenção à operação de vai usar.

José comprou
4 bolas e
ganhou mais
5 bolas.
Com quantas
bolas José ficou?




José ficou com _____ bolas.

Vera ganhou 2 bolas,
3 pipas e 1 pião.
Quantos brinquedos
Vera ganhou?



Vera ganhou
_____ brinquedos.

Mamãe comprou na
feira: 3 maçãs,
4 laranjas e
1 abacaxi.
Quantas frutas
mamãe comprou?



Mamãe comprou _____ frutas.

6. Pinte as fichas que têm resultado 10.

$8 + 1$

$3 + 7$







$6 + 3$

$4 + 6$

$5 + 5$

$9 + 1$

7. Pinte apenas o que se pede.

	Meia dezena
	Meia dezena
	Uma dezena
	Meia dezena
	Uma dezena
	Uma dezena